

Вариант 3.

№1. Вычислите: $-16+39+(-52)$.

Ответ:

2

Вычислите: $2\frac{5}{8} : \frac{3}{2} + \frac{1}{4}$.

Ответ:

3

Три четверти пачки сливочного масла весят 153 грамма. Сколько граммов весит пачка сливочного масла?

Ответ:


4

Запишите число $7\frac{9}{20}$ в виде десятичной дроби.

Ответ:

5

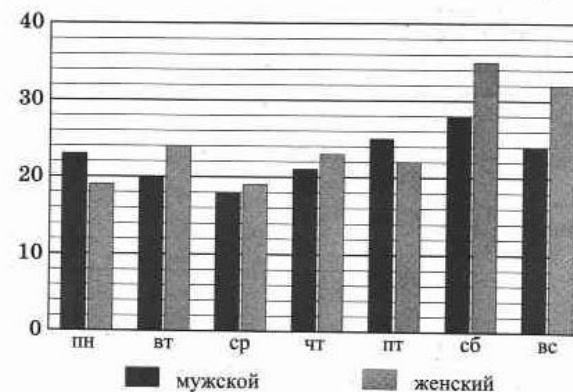
На рисунке изображены холодильник и стиральная машина. Высота стиральной машины 85 см. Какова примерная высота холодильника? Ответ дайте в метрах.



Ответ:

6

В парикмахерской «Мимоза» есть два зала: мужской и женский. На диаграмме представлены данные о посетителях за неделю по залам.



В какой день недели в парикмахерской число посетителей было самым большим?

Ответ:

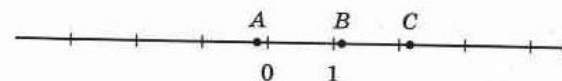
7

$|b| = 4$. Найдите расстояние от точки b до -2 .

Ответ:

8

На координатной прямой отмечены точки A , B и C .



Установите соответствие между точками и их координатами.

ТОЧКИ

A

B

C

КООРДИНАТЫ

1) $-\frac{6}{7}$

2) $\frac{8}{7}$

3) $2\frac{5}{7}$

4) $-0,14$

5) $2,14$

